

Тренировочная работа №4 по МАТЕМАТИКЕ

9 класс

5 марта 2025 года

Вариант МА2490403

Выполнена: ФИО _____ класс _____

Инструкция по выполнению работы

Работа состоит из двух частей, включающих в себя 25 заданий. Часть 1 содержит 19 заданий, часть 2 содержит 6 заданий с развёрнутым ответом.

На выполнение работы по математике отводится 3 часа 55 минут (235 минут).

Ответы к заданиям 7 и 13 запишите в виде одной цифры, которая соответствует номеру правильного ответа.

Для остальных заданий части 1 ответом является число или последовательность цифр. Если получилась обыкновенная дробь, ответ запишите в виде десятичной.

Решения заданий части 2 и ответы к ним запишите на отдельном листе бумаги. Задания можно выполнять в любом порядке. Текст задания переписывать не надо, необходимо только указать его номер.

Сначала выполняйте задания части 1. Начать советуем с тех заданий, которые вызывают у Вас меньше затруднений, затем переходите к другим заданиям. Для экономии времени пропускайте задание, которое не удаётся выполнить сразу, и переходите к следующему. Если у Вас останется время, Вы сможете вернуться к пропущенным заданиям.

При выполнении части 1 все необходимые вычисления, преобразования выполняйте в черновике. **Записи в черновике, а также в тексте контрольных измерительных материалов не учитываются при оценивании работы.**

Если задание содержит рисунок, то на нём непосредственно в тексте работы можно выполнять необходимые Вам построения. Рекомендуем внимательно читать условие и проводить проверку полученного ответа.

При выполнении работы Вы можете воспользоваться справочными материалами, выданными вместе с вариантом КИМ, и линейкой.

Баллы, полученные Вами за выполненные задания, суммируются. Постарайтесь выполнить как можно больше заданий и набрать наибольшее количество баллов.

После завершения работы проверьте, чтобы ответ на каждое задание был записан под правильным номером.

Желаем успеха!

Часть 1

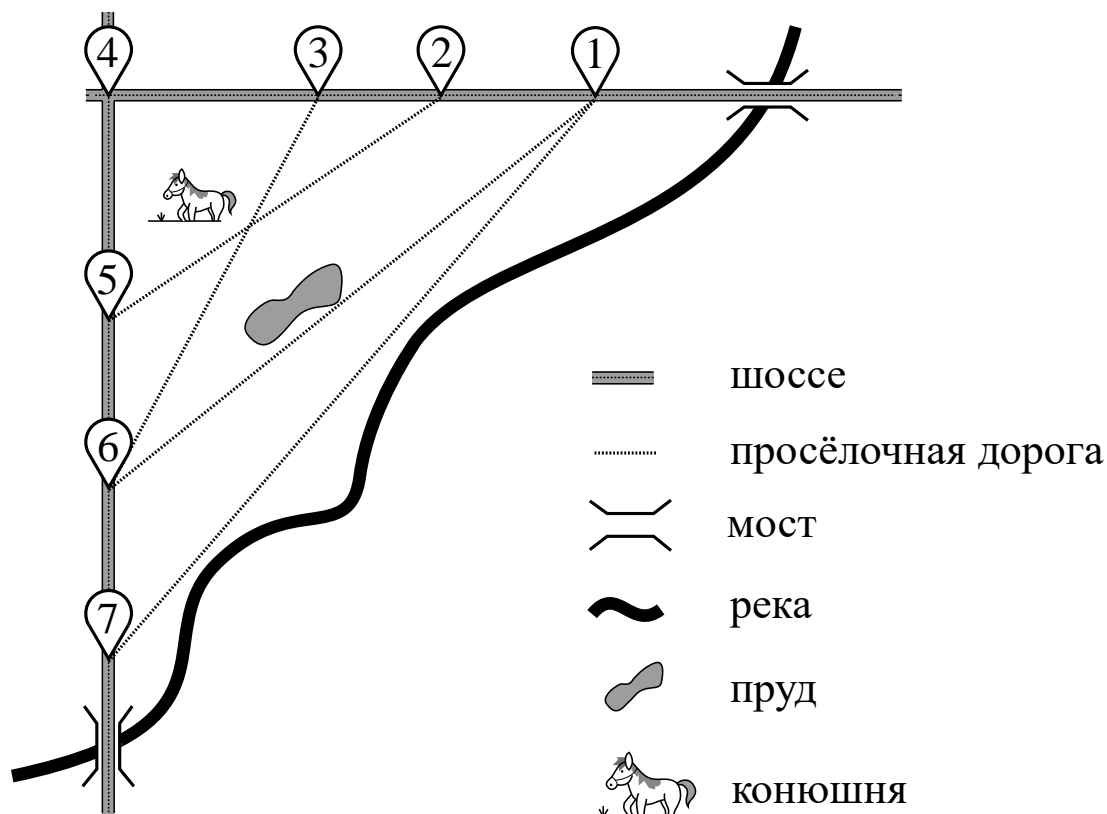
Ответами к заданиям 1–19 являются число или последовательность цифр.

Прочитайте внимательно текст и выполните задания 1–5.

На рисунке изображён план сельской местности.

Таня на летних каникулах приезжает в гости к дедушке в деревню Антоновку (на плане обозначена цифрой 1). В конце каникул дедушка на машине собирается отвезти Таню на автобусную станцию, которая находится в деревне Богданово. Из Антоновки в Богданово можно проехать по просёлочной дороге мимо реки. Есть другой путь — по шоссе до деревни Ванютино, где нужно повернуть под прямым углом налево на другое шоссе, ведущее в Богданово. Третий маршрут проходит по просёлочной дороге мимо пруда до деревни Горюново, где можно свернуть на шоссе до Богданова. Четвёртый маршрут пролегает по шоссе до деревни Доломино, от Доломина до Горюнова по просёлочной дороге мимо конюшни и от Горюнова до Богданова по шоссе. Ещё один маршрут проходит по шоссе до деревни Егорки, по просёлочной дороге мимо конюшни от Егорки до Жилина и по шоссе от Жилина до Богданова.

Шоссе и просёлочные дороги образуют прямоугольные треугольники.



По шоссе Таня с дедушкой едут со скоростью 50 км/ч, а по просёлочным дорогам — со скоростью 30 км/ч. Расстояние от Антоновки до Доломина равно 12 км, от Доломина до Егорки — 4 км, от Егорки до Ванютина — 12 км, от Горюнова до Ванютина — 15 км, от Ванютина до Жилина — 9 км, а от Жилина до Богданова — 12 км.

1 Пользуясь описанием, определите, какими цифрами на плане обозначены деревни.

Заполните таблицу, в бланк ответов перенесите последовательность четырёх цифр без пробелов, запятых и других дополнительных символов.

Деревни	Егорка	Ванютино	Доломино	Жилино
Цифры				

2 Найдите расстояние от Ванютина до Богданова по шоссе. Ответ дайте в километрах.

Ответ: _____.

3 Найдите расстояние от Антоновки до Горюнова по прямой. Ответ дайте в километрах.

Ответ: _____.

4 За какое наименьшее количество минут Таня с дедушкой могут добраться из Егорки в Жилино?

Ответ: _____.


5 На просёлочных дорогах машина дедушки расходует 9,2 литра бензина на 100 км. Известно, что на путь из Антоновки до Богданова через Ванютино и на путь через Доломино и Горюново мимо конюшни ей необходим один и тот же объём бензина. Сколько литров бензина на 100 км машина дедушки расходует на шоссе?

Ответ: _____.

6 Найдите значение выражения $\left(\frac{1}{30} + \frac{3}{20}\right) \cdot 6$.

Ответ: _____.

7 На координатной прямой отмечено число a .



Какое из утверждений для этого числа является верным?

- 1) $a - 5 < 0$ 2) $5 - a < 0$ 3) $a - 7 > 0$ 4) $6 - a > 0$

Ответ:

8 Найдите значение выражения $\frac{\sqrt{25a^8} \cdot \sqrt{9b^5}}{\sqrt{a^4b^5}}$ при $a = 7$ и $b = 10$.

Ответ: _____.

9 Найдите корень уравнения $4(x - 8) = -5$.

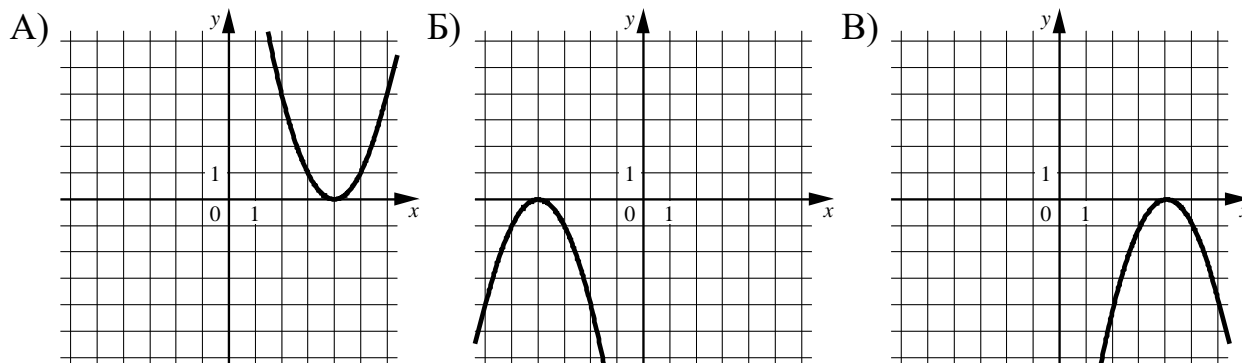
Ответ: _____.

10 В среднем из каждых 90 поступивших в продажу аккумуляторов 81 аккумулятор заряжен. Найдите вероятность того, что случайно выбранный в магазине аккумулятор не заряжен.

Ответ: _____.

- 11** Установите соответствие между графиками функций и формулами, которые их задают.

ГРАФИКИ



ФОРМУЛЫ

- 1) $y = x^2 - 8x + 16$ 2) $y = -x^2 - 8x - 16$ 3) $y = -x^2 + 8x - 16$

В таблице под каждой буквой укажите соответствующий номер.

Ответ:

А	Б	В

- 12** В фирме «Чистая вода» стоимость (в рублях) колодца из железобетонных колец рассчитывается по формуле $C = 6500 + 4000n$, где n — число колец, установленных в колодце. Пользуясь этой формулой, рассчитайте стоимость колодца из 11 колец. Ответ дайте в рублях.

Ответ: _____.

- 13** Укажите решение неравенства

$$(x + 1)(x - 7) \geq 0.$$

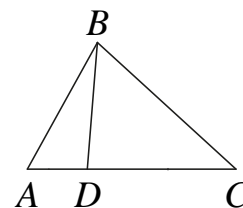
- 1) $(-\infty; -1] \cup [7; +\infty)$ 3) $[-1; 7]$
 2) $[-1; +\infty)$ 4) $[7; +\infty)$

Ответ:

- 14** При проведении опыта вещество равномерно охлаждали в течение 10 минут. При этом каждую минуту температура вещества уменьшалась на 8°C . Найдите температуру вещества (в градусах Цельсия) через 7 минут после начала проведения опыта, если его начальная температура составляла -6°C .

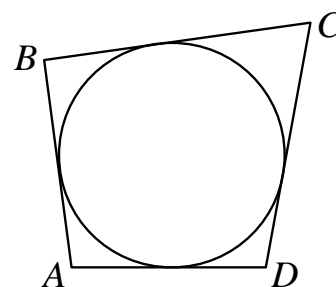
Ответ: _____.

- 15** На стороне AC треугольника ABC отмечена точка D так, что $AD = 6$, $DC = 10$. Площадь треугольника ABC равна 48. Найдите площадь треугольника BDC .



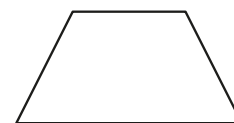
Ответ: _____.

- 16** Четырёхугольник $ABCD$ описан около окружности, $AB = 6$, $BC = 8$, $CD = 11$. Найдите AD .



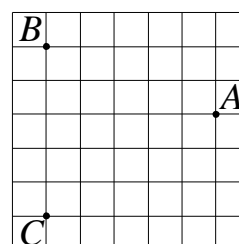
Ответ: _____.

- 17** Сумма двух углов равнобедренной трапеции равна 178° . Найдите больший угол этой трапеции. Ответ дайте в градусах.



Ответ: _____.

- 18** На клетчатой бумаге с размером клетки 1×1 отмечены три точки: A , B и C . Найдите расстояние от точки A до прямой BC .



Ответ: _____.

19 Какие из следующих утверждений являются истинными высказываниями?

- 1) Сумма углов равнобедренного треугольника равна 180 градусам.
- 2) Через точку, не лежащую на данной прямой, можно провести прямую, параллельную этой прямой.
- 3) В прямоугольном треугольнике квадрат гипотенузы равен разности квадратов катетов.

В ответе запишите номера выбранных утверждений без пробелов, запятых и других дополнительных символов.

Ответ: _____.

Часть 2

При выполнении заданий 20–25 используйте отдельный лист бумаги. Сначала укажите номер задания, а затем запишите его решение и ответ. Пишите чётко и разборчиво.

20 Решите уравнение $(x + 4)^4 - 6(x + 4)^2 - 7 = 0$.

21 Расстояние между пристанями А и В равно 126 км. Из А в В по течению реки отправился плот, а через час вслед за ним отправилась моторная лодка, которая, прибыв в пункт В, тотчас повернула обратно и возвратилась в А. К этому времени плот проплыл 36 км. Найдите скорость лодки в неподвижной воде, если скорость течения реки равна 4 км/ч.

22 Постройте график функции

$$y = \begin{cases} -x^2 + 2x + 3 & \text{при } x \geq -1, \\ -x + 1 & \text{при } x < -1. \end{cases}$$

Определите, при каких значениях m прямая $y = m$ имеет с графиком ровно две общие точки.

23 Высота AH ромба $ABCD$ делит сторону CD на отрезки $DH = 12$ и $CH = 1$. Найдите высоту ромба.

24 Внутри параллелограмма $ABCD$ выбрали произвольную точку E . Докажите, что сумма площадей треугольников BEC и AED равна половине площади параллелограмма.

25 На стороне BC остроугольного треугольника ABC как на диаметре построена полуокружность, пересекающая высоту AD в точке M , $AD = 72$, $MD = 18$, H — точка пересечения высот треугольника ABC . Найдите AH .

Тренировочная работа №4 по МАТЕМАТИКЕ

9 класс

5 марта 2025 года

Вариант МА2490404

Выполнена: ФИО _____ класс _____

Инструкция по выполнению работы

Работа состоит из двух частей, включающих в себя 25 заданий. Часть 1 содержит 19 заданий, часть 2 содержит 6 заданий с развёрнутым ответом.

На выполнение работы по математике отводится 3 часа 55 минут (235 минут).

Ответы к заданиям 7 и 13 запишите в виде одной цифры, которая соответствует номеру правильного ответа.

Для остальных заданий части 1 ответом является число или последовательность цифр. Если получилась обыкновенная дробь, ответ запишите в виде десятичной.

Решения заданий части 2 и ответы к ним запишите на отдельном листе бумаги. Задания можно выполнять в любом порядке. Текст задания переписывать не надо, необходимо только указать его номер.

Сначала выполняйте задания части 1. Начать советуем с тех заданий, которые вызывают у Вас меньше затруднений, затем переходите к другим заданиям. Для экономии времени пропускайте задание, которое не удаётся выполнить сразу, и переходите к следующему. Если у Вас останется время, Вы сможете вернуться к пропущенным заданиям.

При выполнении части 1 все необходимые вычисления, преобразования выполняйте в черновике. **Записи в черновике, а также в тексте контрольных измерительных материалов не учитываются при оценивании работы.**

Если задание содержит рисунок, то на нём непосредственно в тексте работы можно выполнять необходимые Вам построения. Рекомендуем внимательно читать условие и проводить проверку полученного ответа.

При выполнении работы Вы можете воспользоваться справочными материалами, выданными вместе с вариантом КИМ, и линейкой.

Баллы, полученные Вами за выполненные задания, суммируются. Постарайтесь выполнить как можно больше заданий и набрать наибольшее количество баллов.

После завершения работы проверьте, чтобы ответ на каждое задание был записан под правильным номером.

Желаем успеха!

Часть 1

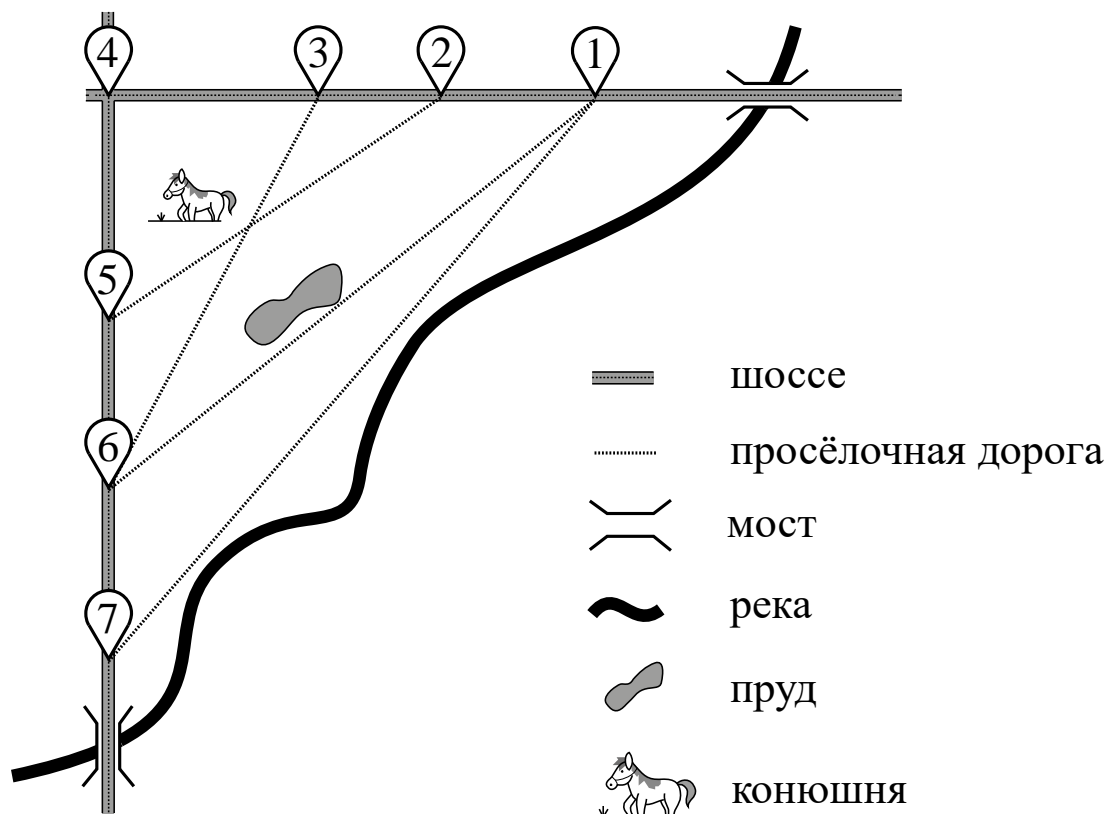
Ответами к заданиям 1–19 являются число или последовательность цифр.

Прочитайте внимательно текст и выполните задания 1–5.

На рисунке изображён план сельской местности.

Таня на летних каникулах приезжает в гости к дедушке в деревню Антоновку (на плане обозначена цифрой 1). В конце каникул дедушка на машине собирается отвезти Таню на автобусную станцию, которая находится в деревне Богданово. Из Антоновки в Богданово можно проехать по просёлочной дороге мимо реки. Есть другой путь — по шоссе до деревни Ванютино, где нужно повернуть под прямым углом налево на другое шоссе, ведущее в Богданово. Третий маршрут проходит по просёлочной дороге мимо пруда до деревни Горюново, где можно свернуть на шоссе до Богданова. Четвёртый маршрут пролегает по шоссе до деревни Доломино, от Доломина до Горюнова по просёлочной дороге мимо конюшни и от Горюнова до Богданова по шоссе. Ещё один маршрут проходит по шоссе до деревни Егорки, по просёлочной дороге мимо конюшни от Егорки до Жилина и по шоссе от Жилина до Богданова.

Шоссе и просёлочные дороги образуют прямоугольные треугольники.



По шоссе Таня с дедушкой едут со скоростью 50 км/ч, а по просёлочным дорогам — со скоростью 30 км/ч. Расстояние от Антоновки до Доломина равно 12 км, от Доломина до Егорки — 4 км, от Егорки до Ванютина — 12 км, от Горюнова до Ванютина — 15 км, от Ванютина до Жилина — 9 км, а от Жилина до Богданова — 12 км.

1 Пользуясь описанием, определите, какими цифрами на плане обозначены деревни.

Заполните таблицу, в бланк ответов перенесите последовательность четырёх цифр без пробелов, запятых и других дополнительных символов.

Деревни	Богданово	Ванютино	Егорка	Жилино
Цифры				

2 Найдите расстояние от Доломина до Ванютина по шоссе. Ответ дайте в километрах.

Ответ: _____.

3 Найдите расстояние от Антоновки до Богданова по прямой. Ответ дайте в километрах.

Ответ: _____.

4 За какое наименьшее количество минут Таня с дедушкой могут добраться из Антоновки в Горюново?

Ответ: _____.


5 На просёлочных дорогах машина дедушки расходует 7,7 литра бензина на 100 км. Известно, что на путь из Антоновки до Богданова через Ванютино и путь через Егорку и Жилино мимо конюшни ей необходим один и тот же объём бензина. Сколько литров бензина на 100 км машина дедушки расходует на шоссе?

Ответ: _____.

6 Найдите значение выражения $\left(\frac{8}{15} + \frac{3}{10}\right) \cdot 9$.

Ответ: _____.

7 На координатной прямой отмечено число a .



Какое из утверждений для этого числа является верным?

- 1) $4 - a > 0$ 2) $a - 7 < 0$ 3) $a - 8 > 0$ 4) $8 - a < 0$

Ответ:

8 Найдите значение выражения $\frac{\sqrt{4a^{11}} \cdot \sqrt{9b^4}}{\sqrt{a^7 b^4}}$ при $a = 7$ и $b = 9$.

Ответ: _____.

9 Найдите корень уравнения $4(x + 10) = -1$.

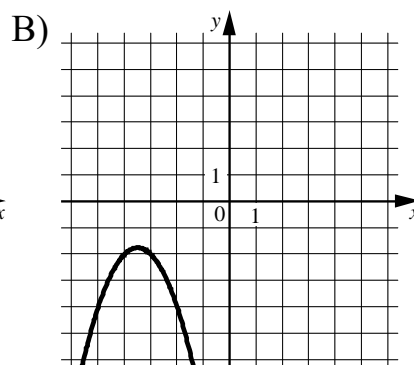
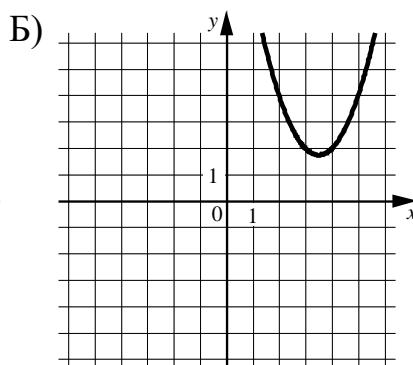
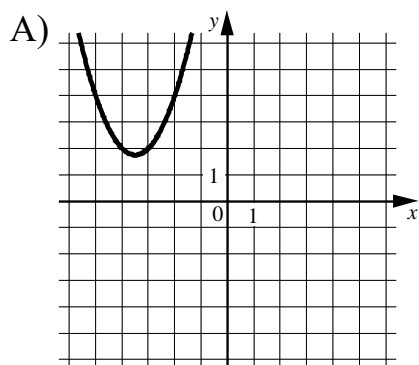
Ответ: _____.

10 В среднем из каждых 50 поступивших в продажу аккумуляторов 47 аккумуляторов заряжены. Найдите вероятность того, что случайно выбранный в магазине аккумулятор не заряжен.

Ответ: _____.

11 Установите соответствие между графиками функций и формулами, которые их задают.

ГРАФИКИ



ФОРМУЛЫ

1) $y = x^2 - 7x + 14$

2) $y = x^2 + 7x + 14$

3) $y = -x^2 - 7x - 14$

В таблице под каждой буквой укажите соответствующий номер.

Ответ:

А	Б	В

12 В фирме «Чистая вода» стоимость (в рублях) колодца из железобетонных колец рассчитывается по формуле $C = 6500 + 4000n$, где n — число колец, установленных в колодце. Пользуясь этой формулой, рассчитайте стоимость колодца из 12 колец. Ответ дайте в рублях.

Ответ: _____.

13 Укажите решение неравенства

$$(x + 9)(x - 4) < 0.$$

1) $(-9; 4)$

3) $(-\infty; -9)$

2) $(-\infty; -9) \cup (4; +\infty)$

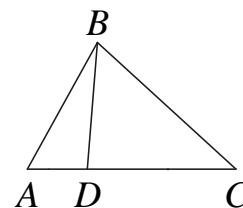
4) $(-\infty; 4)$

Ответ:

- 14** При проведении опыта вещество равномерно охлаждали в течение 10 минут. При этом каждую минуту температура вещества уменьшалась на 9°C . Найдите температуру вещества (в градусах Цельсия) через 6 минут после начала проведения опыта, если его начальная температура составляла -6°C .

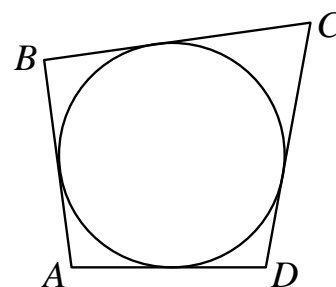
Ответ: _____.

- 15** На стороне AC треугольника ABC отмечена точка D так, что $AD=4$, $DC=8$. Площадь треугольника ABC равна 36. Найдите площадь треугольника BDC .



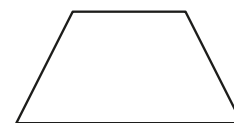
Ответ: _____.

- 16** Четырёхугольник $ABCD$ описан около окружности, $AB=11$, $BC=7$, $CD=12$. Найдите AD .



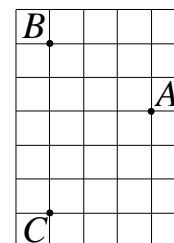
Ответ: _____.

- 17** Сумма двух углов равнобедренной трапеции равна 352° . Найдите меньший угол этой трапеции. Ответ дайте в градусах.



Ответ: _____.

- 18** На клетчатой бумаге с размером клетки 1×1 отмечены три точки: A , B и C . Найдите расстояние от точки A до прямой BC .



Ответ: _____.

19 Какие из следующих утверждений являются истинными высказываниями?

- 1) Сумма углов прямоугольного треугольника равна 90 градусам.
- 2) Существуют три прямые, которые проходят через одну точку.
- 3) Диагонали ромба точкой пересечения делятся пополам.

В ответе запишите номера выбранных утверждений без пробелов, запятых и других дополнительных символов.

Ответ: _____.

Часть 2

При выполнении заданий 20–25 используйте отдельный лист бумаги. Сначала укажите номер задания, а затем запишите его решение и ответ. Пишите чётко и разборчиво.

20 Решите уравнение $(x - 4)^4 - 4(x - 4)^2 - 21 = 0$.

21 Расстояние между пристанями А и В равно 108 км. Из А в В по течению реки отправился плот, а через час вслед за ним отправилась моторная лодка, которая, прибыв в пункт В, тотчас повернула обратно и возвратилась в А. К этому времени плот проплыл 48 км. Найдите скорость лодки в неподвижной воде, если скорость течения реки равна 3 км/ч.

22 Постройте график функции

$$y = \begin{cases} -x^2 + 10x - 21 & \text{при } x \geq 3, \\ -x + 5 & \text{при } x < 3. \end{cases}$$

Определите, при каких значениях m прямая $y = m$ имеет с графиком ровно две общие точки.

23 Высота AH ромба $ABCD$ делит сторону CD на отрезки $DH = 16$ и $CH = 4$. Найдите высоту ромба.

24 Внутри параллелограмма $ABCD$ выбрали произвольную точку E . Докажите, что сумма площадей треугольников BEC и AED равна половине площади параллелограмма.

25 На стороне BC остроугольного треугольника ABC как на диаметре построена полуокружность, пересекающая высоту AD в точке M , $AD = 9$, $MD = 6$, H — точка пересечения высот треугольника ABC . Найдите AH .