

Тренировочная работа №5 по МАТЕМАТИКЕ

9 класс

6 мая 2024 года

Вариант МА2390501

Выполнена: ФИО _____ класс _____

Инструкция по выполнению работы

Работа состоит из двух частей, включающих в себя 25 заданий. Часть 1 содержит 19 заданий, часть 2 содержит 6 заданий с развёрнутым ответом.

На выполнение работы по математике отводится 3 часа 55 минут (235 минут).

Ответы к заданиям 7 и 13 запишите в виде одной цифры, которая соответствует номеру правильного ответа.

Для остальных заданий части 1 ответом является число или последовательность цифр. Если получилась обыкновенная дробь, ответ запишите в виде десятичной.

Решения заданий части 2 и ответы к ним запишите на отдельном листе бумаги. Задания можно выполнять в любом порядке. Текст задания переписывать не надо, необходимо только указать его номер.

Сначала выполняйте задания части 1. Начать советуем с тех заданий, которые вызывают у Вас меньше затруднений, затем переходите к другим заданиям. Для экономии времени пропускайте задание, которое не удаётся выполнить сразу, и переходите к следующему. Если у Вас останется время, Вы сможете вернуться к пропущенным заданиям.

При выполнении части 1 все необходимые вычисления, преобразования выполняйте в черновике. **Записи в черновике, а также в тексте контрольных измерительных материалов не учитываются при оценивании работы.**

Если задание содержит рисунок, то на нём непосредственно в тексте работы можно выполнять необходимые Вам построения. Рекомендуем внимательно читать условие и проводить проверку полученного ответа.

При выполнении работы Вы можете воспользоваться справочными материалами, выданными вместе с вариантом КИМ, и линейкой.

Баллы, полученные Вами за выполненные задания, суммируются. Постарайтесь выполнить как можно больше заданий и набрать наибольшее количество баллов.

После завершения работы проверьте, чтобы ответ на каждое задание был записан под правильным номером.

Желаем успеха!

Часть 1

Ответами к заданиям 1–19 являются число или последовательность цифр.

Прочитайте внимательно текст и выполните задания 1–5.



Рис. 1

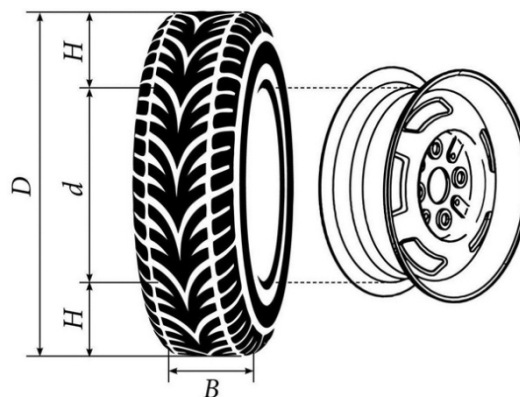


Рис. 2

Автомобильное колесо, как правило, представляет из себя металлический диск с установленной на него резиновой шиной. Диаметр диска совпадает с диаметром внутреннего отверстия в шине.

Для маркировки автомобильных шин применяется единая система обозначений. Например, на рис. 1 изображена шина с маркировкой 195/65 R15. Первое число (число 195 в приведённом примере) обозначает ширину шины в миллиметрах (параметр B на рис. 2). Второе число (число 65 в приведённом примере) — процентное отношение высоты боковины (параметр H на рис. 2) к ширине шины, то есть $100 \cdot \frac{H}{B}$.

Последующая буква обозначает тип конструкции шины. В данном примере буква R означает, что шина радиальная, то есть нити каркаса в боковине шины расположены вдоль радиусов колеса. На всех легковых автомобилях применяются шины радиальной конструкции.

За обозначением типа конструкции шины идёт число, указывающее диаметр диска колеса d в дюймах (в одном дюйме 25,4 мм). Таким образом, общий диаметр колеса D легко найти, зная диаметр диска и высоту боковины.

Возможны дополнительные маркировки, обозначающие допустимую нагрузку на шину, сезонность использования, тип дорожного покрытия и другие параметры.

Завод производит внедорожники определённой модели и устанавливает на них колёса с шинами маркировки 265/60 R18.

- 1 Завод допускает установку шин с другими маркировками. В таблице показаны разрешённые размеры шин.

Ширина шины (мм)	Диаметр диска (дюймы)			
	17	18	19	20
245	245/70	—	—	—
255	255/70	255/65	—	—
265	265/65	265/60; 265/65	—	—
275	275/65	275/60	275/55	275/50
285	—	285/60	285/55	285/50

Шины какой наибольшей ширины можно устанавливать на автомобиль, если диаметр диска равен 17 дюймам? Ответ дайте в миллиметрах.

Ответ: _____.

- 2 Найдите диаметр колеса автомобиля, выходящего с завода. Ответ дайте в миллиметрах.

Ответ: _____.

- 3 На сколько миллиметров радиус колеса с шиной маркировки 245/70 R17 меньше, чем радиус колеса с шиной маркировки 275/65 R17?

Ответ: _____.

- 4 На сколько миллиметров увеличится диаметр колеса, если заменить колёса, установленные на заводе, колёсами с шинами маркировки 285/50 R20?

Ответ: _____.

- 5 Дмитрий планирует заменить зимнюю резину на летнюю на своём автомобиле. Для каждого из четырёх колёс последовательно выполняются четыре операции: снятие колеса, замена шины, балансировка колеса и установка колеса. Дмитрий выбирает между автосервисами А и Б. Затраты на дорогу и стоимость операций даны в таблице.

Автосервис	Суммарные затраты на дорогу	Стоимость для одного колеса			
		Снятие колеса	Замена шины	Балансировка колеса	Установка колеса
А	240 руб.	62 руб.	230 руб.	210 руб.	62 руб.
Б	420 руб.	57 руб.	200 руб.	190 руб.	57 руб.

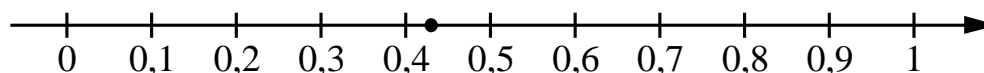
Сколько рублей заплатит Дмитрий за замену резины на своём автомобиле, если выберет самый дешёвый вариант?

Ответ: _____.

- 6 Найдите значение выражения $10 \cdot \left(\frac{1}{5}\right)^2 - 12 \cdot \frac{1}{5}$.

Ответ: _____.

- 7 Одно из чисел $\frac{6}{23}$; $\frac{9}{23}$; $\frac{10}{23}$; $\frac{12}{23}$ отмечено на прямой точкой.



Какое это число?

- 1) $\frac{6}{23}$ 2) $\frac{9}{23}$ 3) $\frac{10}{23}$ 4) $\frac{12}{23}$

Ответ:

- 8 Найдите значение выражения $\sqrt{a^2 - 6ab + 9b^2}$ при $a = 3$ и $b = 6$.

Ответ: _____.

9 Решите уравнение $x^2 - 35 = 2x$.
 Если уравнение имеет более одного корня, в ответе запишите меньший из корней.

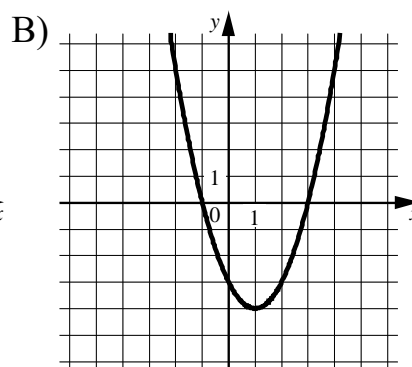
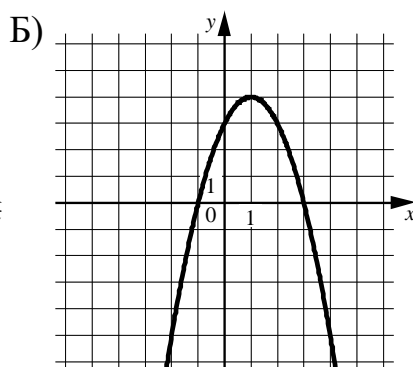
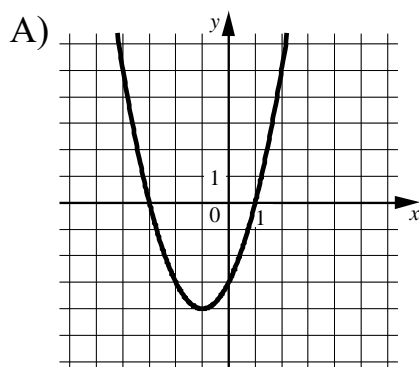
Ответ: _____.

10 Вероятность того, что новая шариковая ручка пишет плохо (или не пишет), равна 0,14. Покупатель в магазине выбирает одну шариковую ручку. Найдите вероятность того, что эта ручка пишет хорошо.

Ответ: _____.

11 Установите соответствие между графиками функций и формулами, которые их задают.

ГРАФИКИ



ФОРМУЛЫ

1) $y = x^2 + 2x - 3$

2) $y = x^2 - 2x - 3$

3) $y = -x^2 + 2x + 3$

В таблице под каждой буквой укажите соответствующий номер.

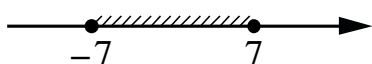
Ответ:

А	Б	В

- 12** Перевести значение температуры по шкале Фаренгейта в шкалу Цельсия позволяет формула $t_C = \frac{5}{9}(t_F - 32)$, где t_C — температура в градусах Цельсия, t_F — температура в градусах Фаренгейта. Скольким градусам по шкале Цельсия соответствует 140 градусов по шкале Фаренгейта?

Ответ: _____.

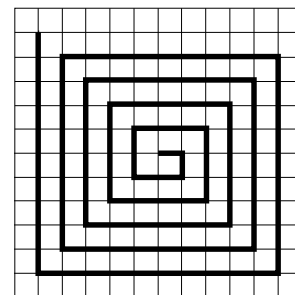
- 13** Укажите неравенство, решение которого изображено на рисунке.



- 1) $x^2 - 49 \leq 0$ 2) $x^2 + 49 \leq 0$ 3) $x^2 - 49 \geq 0$ 4) $x^2 + 49 \geq 0$

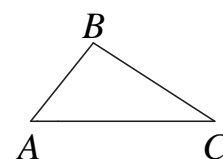
Ответ:

- 14** На клетчатой бумаге с размером клетки 1×1 нарисована «змейка», представляющая из себя ломаную, состоящую из чётного числа звеньев, идущих по линиям сетки. На рисунке изображён случай, когда последнее звено имеет длину 10. Найдите длину ломаной, построенной аналогичным образом, последнее звено которой имеет длину 120.



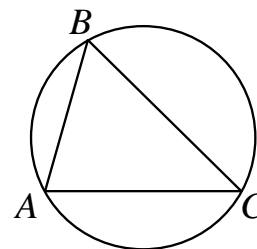
Ответ: _____.

- 15** В треугольнике ABC известно, что $AB = 5$, $BC = 7$, $AC = 9$. Найдите $\cos \angle ABC$.



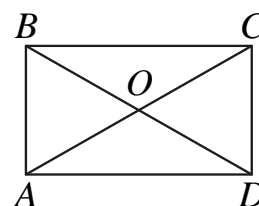
Ответ: _____.

- 16** В треугольнике ABC угол C равен 45° , $AB = 8\sqrt{2}$. Найдите радиус окружности, описанной около этого треугольника.



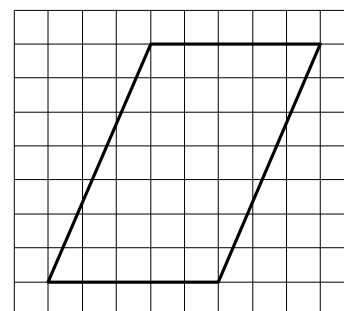
Ответ: _____.

- 17** Диагонали AC и BD прямоугольника $ABCD$ пересекаются в точке O , $BO = 7$, $AB = 6$. Найдите AC .



Ответ: _____.

- 18** На клетчатой бумаге с размером клетки 1×1 изображён параллелограмм. Найдите его площадь.



Ответ: _____.

- 19** Какие из следующих утверждений верны?

- 1) Средняя линия трапеции равна сумме её оснований.
- 2) Диагонали ромба перпендикулярны.
- 3) Площадь треугольника меньше произведения двух его сторон.

В ответе запишите номера выбранных утверждений без пробелов, запятых и других дополнительных символов.

Ответ: _____.

Часть 2

При выполнении заданий 20–25 используйте отдельный лист бумаги. Сначала укажите номер задания, а затем запишите его решение и ответ. Пишите чётко и разборчиво.

20 Решите уравнение $x^6 = (5x - 6)^3$.

21 Первый велосипедист выехал из посёлка по шоссе со скоростью 24 км/ч. Через час после него со скоростью 21 км/ч из того же посёлка в том же направлении выехал второй велосипедист, а ещё через час — третий. Найдите скорость третьего велосипедиста, если сначала он догнал второго, а через 9 часов после этого догнал первого.

22 Постройте график функции

$$y = \frac{2,5|x| - 1}{|x| - 2,5x^2}.$$

Определите, при каких значениях k прямая $y = kx$ не имеет с графиком общих точек.

23 Найдите боковую сторону AB трапеции $ABCD$, если углы ABC и BCD равны соответственно 60° и 150° , а $CD = 33$.

24 Окружности с центрами в точках P и Q пересекаются в точках K и L , причём точки P и Q лежат по одну сторону от прямой KL . Докажите, что прямые PQ и KL перпендикулярны.

25 Середина M стороны AD выпуклого четырёхугольника $ABCD$ равноудалена от всех его вершин. Найдите AD , если $BC = 18$, а углы B и C четырёхугольника равны соответственно 132° и 93° .

Тренировочная работа №5 по МАТЕМАТИКЕ

9 класс

6 мая 2024 года

Вариант МА2390502

Выполнена: ФИО _____ класс _____

Инструкция по выполнению работы

Работа состоит из двух частей, включающих в себя 25 заданий. Часть 1 содержит 19 заданий, часть 2 содержит 6 заданий с развёрнутым ответом.

На выполнение работы по математике отводится 3 часа 55 минут (235 минут).

Ответы к заданиям 7 и 13 запишите в виде одной цифры, которая соответствует номеру правильного ответа.

Для остальных заданий части 1 ответом является число или последовательность цифр. Если получилась обыкновенная дробь, ответ запишите в виде десятичной.

Решения заданий части 2 и ответы к ним запишите на отдельном листе бумаги. Задания можно выполнять в любом порядке. Текст задания переписывать не надо, необходимо только указать его номер.

Сначала выполняйте задания части 1. Начать советуем с тех заданий, которые вызывают у Вас меньше затруднений, затем переходите к другим заданиям. Для экономии времени пропускайте задание, которое не удаётся выполнить сразу, и переходите к следующему. Если у Вас останется время, Вы сможете вернуться к пропущенным заданиям.

При выполнении части 1 все необходимые вычисления, преобразования выполняйте в черновике. **Записи в черновике, а также в тексте контрольных измерительных материалов не учитываются при оценивании работы.**

Если задание содержит рисунок, то на нём непосредственно в тексте работы можно выполнять необходимые Вам построения. Рекомендуем внимательно читать условие и проводить проверку полученного ответа.

При выполнении работы Вы можете воспользоваться справочными материалами, выданными вместе с вариантом КИМ, и линейкой.

Баллы, полученные Вами за выполненные задания, суммируются. Постарайтесь выполнить как можно больше заданий и набрать наибольшее количество баллов.

После завершения работы проверьте, чтобы ответ на каждое задание был записан под правильным номером.

Желаем успеха!

Часть 1

Ответами к заданиям 1–19 являются число или последовательность цифр.

Прочитайте внимательно текст и выполните задания 1–5.



Рис. 1

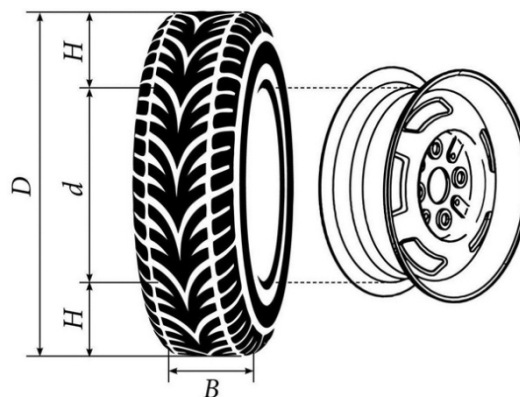


Рис. 2

Автомобильное колесо, как правило, представляет из себя металлический диск с установленной на него резиновой шиной. Диаметр диска совпадает с диаметром внутреннего отверстия в шине.

Для маркировки автомобильных шин применяется единая система обозначений. Например, на рис. 1 изображена шина с маркировкой 195/65 R15. Первое число (число 195 в приведённом примере) обозначает ширину шины в миллиметрах (параметр B на рис. 2). Второе число (число 65 в приведённом примере) — процентное отношение высоты боковины (параметр H на рис. 2) к ширине шины, то есть $100 \cdot \frac{H}{B}$.

Последующая буква обозначает тип конструкции шины. В данном примере буква R означает, что шина радиальная, то есть нити каркаса в боковине шины расположены вдоль радиусов колеса. На всех легковых автомобилях применяются шины радиальной конструкции.

За обозначением типа конструкции шины идёт число, указывающее диаметр диска колеса d в дюймах (в одном дюйме 25,4 мм). Таким образом, общий диаметр колеса D легко найти, зная диаметр диска и высоту боковины.

Возможны дополнительные маркировки, обозначающие допустимую нагрузку на шину, сезонность использования, тип дорожного покрытия и другие параметры.

Завод производит кроссоверы определённой модели и устанавливает на них колёса с шинами маркировки 215/60 R16.

- 1** Завод допускает установку шин с другими маркировками. В таблице показаны разрешённые размеры шин.

Ширина шины (мм)	Диаметр диска (дюймы)		
	16	17	18
205	205/60	205/55	—
215	215/60	215/55	—
225	225/55	225/50	225/45
235	—	235/50	235/45

Шины какой наименьшей ширины можно устанавливать на автомобиль, если диаметр диска равен 18 дюймам? Ответ дайте в миллиметрах.

Ответ: _____.

- 2** Найдите диаметр колеса автомобиля, выходящего с завода. Ответ дайте в миллиметрах.

Ответ: _____.

- 3** На сколько миллиметров радиус колеса с шиной маркировки 205/55 R17 меньше, чем радиус колеса с шиной маркировки 235/50 R17?

Ответ: _____.

- 4** На сколько миллиметров уменьшится диаметр колеса, если заменить колёса, установленные на заводе, колёсами с шинами маркировки 225/50 R17?

Ответ: _____.

- 5 Дмитрий планирует заменить зимнюю резину на летнюю на своём автомобиле. Для каждого из четырёх колёс последовательно выполняются четыре операции: снятие колеса, замена шины, балансировка колеса и установка колеса. Дмитрий выбирает между автосервисами А и Б. Затраты на дорогу и стоимость операций даны в таблице.

Автосервис	Суммарные затраты на дорогу	Стоимость для одного колеса			
		Снятие колеса	Замена шины	Балансировка колеса	Установка колеса
А	230 руб.	55 руб.	255 руб.	205 руб.	55 руб.
Б	410 руб.	50 руб.	225 руб.	185 руб.	50 руб.

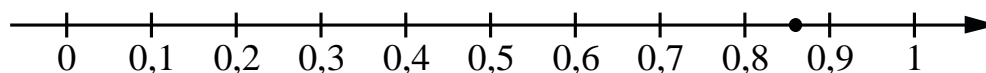
Сколько рублей заплатит Дмитрий за замену резины на своём автомобиле, если выберет самый дешёвый вариант?

Ответ: _____.

- 6 Найдите значение выражения $9 \cdot \left(\frac{1}{9}\right)^2 - 19 \cdot \frac{1}{9}$.

Ответ: _____.

- 7 Одно из чисел $\frac{4}{7}$; $\frac{6}{7}$; $\frac{8}{7}$; $\frac{13}{7}$ отмечено на прямой точкой.



Какое это число?

- 1) $\frac{4}{7}$ 2) $\frac{6}{7}$ 3) $\frac{8}{7}$ 4) $\frac{13}{7}$

Ответ:

- 8 Найдите значение выражения $\sqrt{a^2 + 10ab + 25b^2}$ при $a = 8$ и $b = -2$.

Ответ: _____.

9 Решите уравнение $x^2 - 7x = 8$.
 Если уравнение имеет более одного корня, в ответе запишите больший из корней.

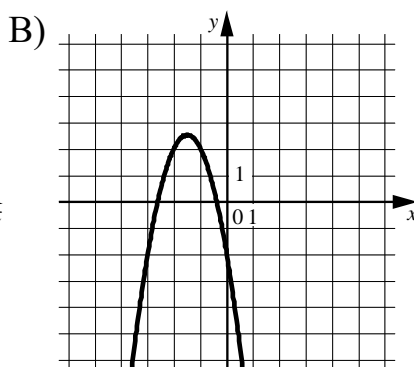
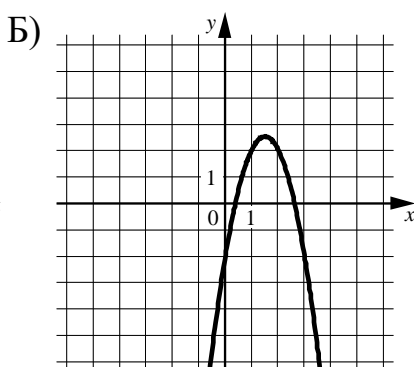
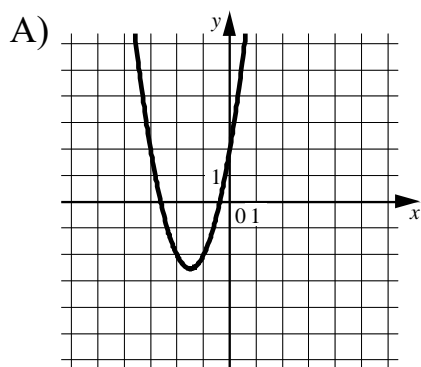
Ответ: _____.

10 Вероятность того, что новая шариковая ручка пишет плохо (или не пишет), равна 0,21. Покупатель в магазине выбирает одну шариковую ручку. Найдите вероятность того, что эта ручка пишет хорошо.

Ответ: _____.

11 Установите соответствие между графиками функций и формулами, которые их задают.

ГРАФИКИ



ФОРМУЛЫ

- 1) $y = -2x^2 + 6x - 2$ 2) $y = -2x^2 - 6x - 2$ 3) $y = 2x^2 + 6x + 2$

В таблице под каждой буквой укажите соответствующий номер.


Ответ:

А	Б	В

- 12** Перевести значение температуры по шкале Фаренгейта в шкалу Цельсия позволяет формула $t_C = \frac{5}{9}(t_F - 32)$, где t_C — температура в градусах Цельсия, t_F — температура в градусах Фаренгейта. Скольким градусам по шкале Цельсия соответствует 5 градусов по шкале Фаренгейта?

Ответ: _____.

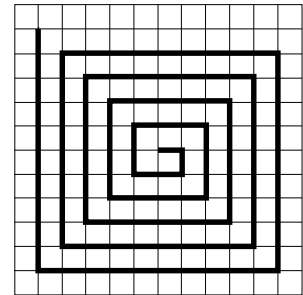
- 13** Укажите неравенство, решение которого изображено на рисунке.



- 1) $x^2 + 64 \geq 0$ 2) $x^2 - 64 \leq 0$ 3) $x^2 - 64 \geq 0$ 4) $x^2 + 64 \leq 0$

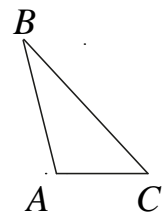
Ответ:

- 14** На клетчатой бумаге с размером клетки 1×1 нарисована «змейка», представляющая из себя ломаную, состоящую из чётного числа звеньев, идущих по линиям сетки. На рисунке изображён случай, когда последнее звено имеет длину 10. Найдите длину ломаной, построенной аналогичным образом, последнее звено которой имеет длину 150.



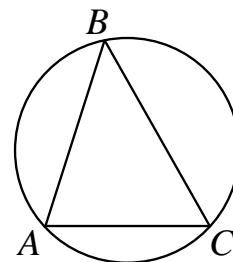
Ответ: _____.

- 15** В треугольнике ABC известно, что $AB = 6$, $BC = 8$, $AC = 4$. Найдите $\cos \angle ABC$.



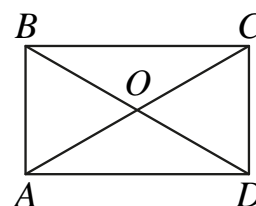
Ответ: _____.

- 16** В треугольнике ABC угол C равен 60° , $AB = 12\sqrt{3}$. Найдите радиус окружности, описанной около этого треугольника.



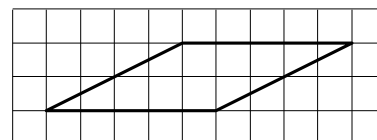
Ответ: _____.

- 17** Диагонали AC и BD прямоугольника $ABCD$ пересекаются в точке O , $BO = 8$, $AB = 9$. Найдите AC .



Ответ: _____.

- 18** На клетчатой бумаге с размером клетки 1×1 изображён параллелограмм. Найдите его площадь.



Ответ: _____.

- 19** Какие из следующих утверждений верны?

- 1) Две прямые, перпендикулярные третьей прямой, перпендикулярны.
- 2) Всякий равносторонний треугольник является остроугольным.
- 3) Любой квадрат является прямоугольником.

В ответе запишите номера выбранных утверждений без пробелов, запятых и других дополнительных символов.

Ответ: _____.

Часть 2

При выполнении заданий 20–25 используйте отдельный лист бумаги. Сначала укажите номер задания, а затем запишите его решение и ответ. Пишите чётко и разборчиво.

20 Решите уравнение $x^6 = (8x - 12)^3$.

21 Первый велосипедист выехал из посёлка по шоссе со скоростью 22 км/ч. Через час после него со скоростью 12 км/ч из того же посёлка в том же направлении выехал второй велосипедист, а ещё через час — третий. Найдите скорость третьего велосипедиста, если сначала он догнал второго, а через 8 часов после этого догнал первого.

22 Постройте график функции

$$y = \frac{3|x| - 1}{|x| - 3x^2}.$$

Определите, при каких значениях k прямая $y = kx$ не имеет с графиком общих точек.

23 Найдите боковую сторону AB трапеции $ABCD$, если углы ABC и BCD равны соответственно 30° и 135° , а $CD = 29$.

24 Окружности с центрами в точках I и J пересекаются в точках A и B , причём точки I и J лежат по одну сторону от прямой AB . Докажите, что прямые AB и IJ перпендикулярны.

25 Середина M стороны AD выпуклого четырёхугольника $ABCD$ равноудалена от всех его вершин. Найдите AD , если $BC = 19$, а углы B и C четырёхугольника равны соответственно 95° и 115° .